



0965CH01

अध्याय 1

हमारे आस-पास के पदार्थ (Matter in Our Surroundings)

अपने चारों ओर नज़र दौड़ाने पर हमें विभिन्न प्रकार की वस्तुएँ नज़र आती हैं, जिनका आकार, आकृति और बनावट अलग-अलग होता है। इस विश्व में प्रत्येक वस्तु जिस सामग्री से बनी होती है उसे वैज्ञानिकों ने 'पदार्थ' का नाम दिया। जिस हवा में हम श्वास लेते हैं, जो भोजन हम खाते हैं, पत्थर, बादल, तारे, पौधे एवं पशु, यहाँ तक कि पानी की एक बूँद या रेत का एक कण, ये सभी पदार्थ हैं। ध्यान देने योग्य बात यह भी है कि ऊपर लिखी सभी वस्तुओं का द्रव्यमान होता है और ये कुछ स्थान (आयतन*) घेरती हैं।

प्राचीन काल से ही मनुष्य अपने आस-पास को समझने का प्रयास करता रहा है। भारत के प्राचीन दार्शनिकों ने पदार्थ को पाँच मूल तत्वों में वर्गीकृत किया, जिसे 'पंचतत्व' कहा गया। ये पंचतत्व हैं: वायु, पृथ्वी, अग्नि, जल और आकाश। उनके अनुसार, इन्हीं पंचतत्वों से सभी वस्तुएँ बनी हैं, चाहे वो सजीव हों, या निर्जीव। उस समय के यूनानी दार्शनिकों ने भी पदार्थ को इसी प्रकार वर्गीकृत किया है।

आधुनिक वैज्ञानिकों ने पदार्थ को भौतिक गुणधर्म एवं रासायनिक प्रकृति के आधार पर दो प्रकार से वर्गीकृत किया है।

इस अध्याय में हम भौतिक गुणों के आधार पर पदार्थ के बारे में ज्ञान अर्जित करेंगे। पदार्थ के रासायनिक पहलुओं को आगे के अध्यायों में पढ़ेंगे।

1.1 पदार्थ का भौतिक स्वरूप

1.1.1 पदार्थ कणों से मिलकर बना होता है

बहुत समय तक पदार्थ की प्रकृति के बारे में दो विचारधाराएँ प्रचलित थीं। एक विचारधारा का यह मानना था कि पदार्थ लकड़ी के टुकड़े की तरह सतत होते हैं। परंतु अन्य विचारधारा का मानना था कि पदार्थ रेत की तरह के कणों से मिलकर बने हैं। आइए एक क्रियाकलाप के द्वारा पदार्थ के स्वरूप के बारे में ये निर्णय करते हैं कि ये सतत हैं या कणों से बने हैं?

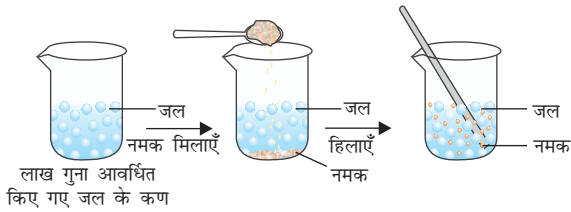
क्रियाकलाप 1.1

- एक 100 mL का बीकर लें। इस बीकर को जल से आधा भरकर जल के स्तर पर निशान लगा दें।
- दिए गए नमक या शर्करा को काँच की छड़ की मदद से जल में घोल दें।
- जल के स्तर में आए बदलाव पर ध्यान दें।
- आपके अनुसार, नमक या शर्करा का क्या हुआ?
- ये कहाँ गायब हो गए?
- क्या जल के स्तर में कोई बदलाव आया?

इन प्रश्नों के उत्तर पाने के लिए हमें इस विचार को स्वीकारना होगा कि सभी पदार्थ कणों से बने होते हैं। उपरोक्त क्रियाकलाप में चम्मच में रखी गई नमक या शर्करा अब पूरे पानी में घुल गई है। जैसा कि चित्र 1.1 में दर्शाया गया है।

* अंतर्राष्ट्रीय मात्रक पद्धति के अनुसार आयतन का मात्रक (1) घन मीटर (m^3) है। आयतन मापने का साधारण मात्रक लीटर (L) है।

$1 L = 1 dm^3$, $1 L = 1000 mL$, $1 m = 10^3 cm^3$

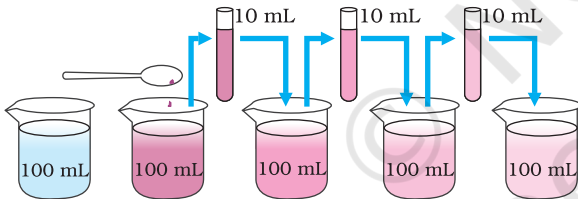


चित्र 1.1: जब हम जल में नमक घोलते हैं, तो नमक के कण जल के कणों के बीच के रिक्त स्थानों में समावेशित हो जाते हैं।

1.1.2 पदार्थ के ये कण कितने छोटे हैं?

क्रियाकलाप _____ 1.2

- पोटैशियम परमैंगनेट के दो या तीन क्रिस्टल को 100 mL पानी में घोल लें।
- इस घोल में से लगभग 10 mL घोल निकालकर उसे 90 mL जल में मिला दें।
- फिर इस उपरोक्त घोल में से 10 mL निकालकर उसे भी 90 mL जल में मिला दें।
- इसी प्रकार इस घोल को 5 से 8 बार तक तनुकृत करते रहें।
- क्या जल अब भी रंगीन है?



चित्र 1.2: अनुमान लगाइए कि पदार्थ के कण कितने छोटे हैं? प्रत्येक बार तनुकृत करने पर घोल का रंग हलका होता जाता है, फिर भी पानी रंगीन नजर आता है।

यह प्रयोग दर्शाता है कि पोटैशियम परमैंगनेट के बहुत थोड़े से क्रिस्टलों से पानी की बहुत अधिक मात्रा (1000 L) भी रंगीन हो जाती है। इससे हम ये निष्कर्ष निकाल सकते हैं कि पोटैशियम परमैंगनेट के केवल एक क्रिस्टल में कई सूक्ष्म कण होंगे। ये कण छोटे-छोटे कणों में विभाजित होते रहते हैं। अन्ततः

एक स्थिति में ये कण और छोटे भागों में विभाजित नहीं किये जा सकते हैं।

पोटैशियम परमैंगनेट की जगह 2 mL डेटॉल से भी हम ये क्रियाकलाप कर सकते हैं। लगातार तनुकृत होने पर भी उसकी महक हमें मिलती रहती है।

पदार्थ के कण बहुत छोटे होते हैं — इतने छोटे कि हम कल्पना भी नहीं कर सकते।

1.2 पदार्थ के कणों के अभिलाक्षणिक गुण

1.2.1 पदार्थ के कणों के बीच रिक्त स्थान होता है

क्रियाकलाप 1.1 और 1.2 में नमक, शर्करा, डेटॉल या पोटैशियम परमैंगनेट के कण समान रूप से पानी में वितरित हो गए। इसी प्रकार, जब हम चाय, कॉफ़ी या नींबू-पानी बनाते हैं, तो एक पदार्थ के कण दूसरे पदार्थ के कणों के रिक्त स्थानों में समावेशित हो जाते हैं। यह दर्शाता है, कि पदार्थ के कणों के बीच पर्याप्त रिक्त स्थान होता है।

1.2.2 पदार्थ के कण निरंतर गतिशील होते हैं

क्रियाकलाप _____ 1.3

- अपनी कक्षा के किसी कोने में एक बुझी हुई अगरबत्ती रख दें। इसकी सुगंध लेने के लिए आपको इसके कितने समीप जाना पड़ता है?
- अब अगरबत्ती जला दें। क्या होता है? क्या दूर से ही इसकी सुगंध आपको मिलती है?
- अपने प्रेक्षण को नोट करें।

क्रियाकलाप _____ 1.4

- जल से भरे दो गिलास या दो बीकर लें।
- पहले बीकर के एक सिरे पर सावधानी से एक बूँद लाल या नीली स्याही डाल दें और दूसरे में शहद डाल दें।
- इनको अपने घर में या कक्षा के एक कोने में रख दें।
- अपने प्रेक्षण को नोट करें।

- स्याही की बूँद डालने के तुरंत बाद आपने क्या देखा?
- शहद की बूँद डालने के तुरंत बाद आपने क्या देखा?
- स्याही का रंग पूरे जल में एकसमान रूप से फैलने में कितने दिन या घंटे लगते हैं?

क्रियाकलाप _____ 1.5

- एक गिलास गर्म पानी से और दूसरा ठंडे पानी से भरे गिलास में कॉपर सल्फेट या पोटैशियम परमैंगनेट का एक क्रिस्टल डालें और एक ओर रख दें। हिलाएँ नहीं।
- क्रिस्टल को सतह पर बैठने दें।
- गिलास में ठोस क्रिस्टल के ठीक ऊपर क्या दिखाई देता है?
- समय बीतने पर क्या होता है?
- इससे ठोस और द्रव के कणों के बारे में क्या पता चलता है?
- क्या तापमान के साथ मिश्रित होने की दर बदलती है? क्यों और कैसे?

उपरोक्त तीनों क्रियाकलापों (1.3, 1.4 और 1.5) से हम निम्नलिखित निष्कर्ष निकाल सकते हैं:

पदार्थ के कण निरंतर गतिशील होते हैं, अर्थात्, उनमें गतिज ऊर्जा होती है। तापमान बढ़ने से कणों की गति तेज़ हो जाती है। इसलिए हम कह सकते हैं कि तापमान बढ़ने से कणों की गतिज ऊर्जा भी बढ़ जाती है।

उपरोक्त तीनों क्रियाकलापों में हमने देखा कि पदार्थ के कण अपने आप ही एक-दूसरे के साथ अंतःमिश्रित हो जाते हैं। ऐसा कणों के रिक्त स्थानों में समावेश के कारण होता है। दो विभिन्न पदार्थों के कणों का स्वतः मिलना ही विसरण कहलाता है। हमें यह भी पता चलता है कि गर्म करने पर विसरण तेज़ हो जाता है। ऐसा क्यों होता है?

हमारे आस-पास के पदार्थ

1.2.3 पदार्थ के कण एक-दूसरे को आकर्षित करते हैं

क्रियाकलाप _____ 1.6

- इस खेल को एक मैदान में खेलें। आगे बताए गए ढंग से चार समूह बनाकर मानव-शृंखला बनाएँ:
- पहला समूह 'ईद्-मिशमी नर्तकों' की तरह एक-दूसरे को पीछे से कसकर पकड़ ले।



चित्र 1.3

- दूसरा समूह एक-दूसरे का हाथ पकड़कर मानव शृंखला बना ले।
- तीसरा समूह केवल उंगली के सिरे से छूकर एक शृंखला बना ले।
- अब चौथा समूह उपरोक्त वर्णित तीनों मानव शृंखलाओं को तोड़कर छोटे समूहों में बाँटने का प्रयास करे।
- किस समूह को तोड़ना आसान था? और क्यों?
- यदि हम प्रत्येक विद्यार्थी को पदार्थ का एक कण मानें, तो किस समूह में कणों ने एक-दूसरे को सबसे अधिक बल से पकड़ रखा था?

क्रियाकलाप _____ 1.7

- एक लोहे की कील, एक चॉक का टुकड़ा और एक रबर बैंड लें।
- इन पर हथौड़ा मार कर, काट कर, या खींचकर उसे भंगुर करने का प्रयास करें।
- इन तीनों में से किसके कण अधिक बल से एक-दूसरे से जुड़े हैं?

क्रियाकलाप _____ 1.8

- एक थाली में जल लेकर उसे उंगली से काटने का प्रयास करें।
- क्या जल की सतह कटती है?
- जल की सतह न कटने का क्या कारण है?

उपरोक्त तीनों क्रियाकलाप सुझाते हैं कि पदार्थ के कणों के बीच एक बल कार्य करता है। यह बल कणों को एक साथ रखता है। इस आकर्षण बल का सामर्थ्य प्रत्येक पदार्थ में अलग-अलग होता है।

प्रश्न

1. निम्नलिखित में से कौन-से पदार्थ हैं - कुर्सी, वायु, स्नेह, गंध, घृणा, बादाम, विचार, शीत, नींबू पानी, इत्र की सुगंध।
2. निम्नलिखित प्रेक्षण के कारण बताएँ - गर्मा-गर्म खाने की गंध कई मीटर दूर से ही आपके पास पहुँच जाती है लेकिन ठंडे खाने की महक लेने के लिए आपको उसके पास जाना पड़ता है।
3. स्वीमिंग पूल में गोताखोर पानी काट पाता है। इससे पदार्थ का कौन-सा गुण प्रेक्षित होता है?
4. पदार्थ के कणों की क्या विशेषताएँ होती हैं?

1.3 पदार्थ की अवस्थाएँ

अपने आस-पास के पदार्थों को ध्यान से देखें। ये कितने प्रकार के हैं? हम पाते हैं कि पदार्थ अपने तीन रूप में होते हैं — ठोस, द्रव और गैस। पदार्थ की ये अवस्थाएँ उसके कणों की विभिन्न विशेषताओं के कारण होती हैं।

अब हम पदार्थ की तीनों अवस्थाओं के गुणों का विस्तार से अध्ययन करेंगे।

1.3.1 ठोस अवस्था

क्रियाकलाप _____ 1.9

- निम्नलिखित वस्तुओं को एकत्रित करें - पेन, किताब, सूई और लकड़ी की छड़।

- इन वस्तुओं के चारों ओर पेंसिल घुमाकर इनके आकार का रेखाचित्र बनाएँ।
- क्या इन सभी का निश्चित आकार, स्पष्ट सीमाएँ तथा स्थिर आयतन है?
- इन पर हथौड़ा मारने, खींचने या गिराने से क्या होता है?
- क्या इनका एक-दूसरे में विसरण संभव है?
- बल लगाकर इनको संपीडित करने का प्रयास करें। क्या इनका संपीडन होता है?

उपरोक्त सभी उदाहरण ठोस के हैं। हम देख सकते हैं कि इन सभी का एक निश्चित आकार, स्पष्ट सीमाएँ तथा स्थिर आयतन यानी नगण्य संपीड्यता होती है। बाह्य बल लगाने पर भी ठोस अपने आकार को बनाए रखते हैं। बल लगाने पर ठोस टूट सकते हैं लेकिन इनका आकार नहीं बदलता। इसलिए ये दृढ़ होते हैं। निम्नलिखित पर विचार कीजिए:

- (a) रबर बैंड को क्या माना जाएगा। क्या खींचकर इसका आकार बदला जा सकता है? क्या ये ठोस है?
- (b) विभिन्न आकार के बर्तनों में रखने पर चीनी और नमक उन्हीं बर्तनों के आकार ले लेते हैं। क्या ये ठोस हैं?
- (c) स्पंज क्या है? यह ठोस है लेकिन फिर भी इसका संपीडन संभव है। क्यों?

ये सभी ठोस ही हैं क्योंकि-

- बाह्य बल लगाए जाने पर रबर बैंड का आकार बदलता है और बल हटा लेने पर यह पुनः अपने मूल आकार में आ जाता है। अत्यधिक बल लगाने पर यह टूट जाता है।
- चाहे हम शर्करा या नमक को अपने हाथ में लें, या किसी प्लेट या जार में रखें, इनके क्रिस्टलों के आकार नहीं बदलते हैं।
- स्पंज में बहुत छोटे छिद्र होते हैं, जिनमें वायु का समावेश होता है। जब हम इसे दबाते हैं तो वे वायु बाहर निकलती है, जिससे इसका संपीडन संभव होता है।

1.3.2 द्रव अवस्था

क्रियाकलाप 1.10

- निम्नलिखित वस्तुओं को एकत्रित करें-
 - (a) जल, खाना पकाने का तेल, दूध, जूस, शीतल पेय।
 - (b) विभिन्न आकार के बर्तन। प्रयोगशाला के एक मापक सिलिंडर की सहायता से इन बर्तनों में 50 mL पर निशान लगा लें।
- इन द्रवों को फ्रंश पर डाल देने पर क्या होगा?
- किसी एक द्रव का 50 mL मापकर विभिन्न बर्तनों में क्रमशः एक-एक करके डालें। क्या प्रत्येक बार आयतन एकसमान रहता है?
- क्या द्रव का आकार एकसमान रहता है?
- द्रव को एक बर्तन से दूसरे बर्तन में उड़ेलने पर क्या यह आसानी से बहता है?

प्रेक्षण से हम पाते हैं कि द्रव का आकार नहीं लेकिन आयतन निश्चित होता है। जिस बर्तन में इन्हें रखा जाए तो ये उसी का आकार ले लेते हैं। द्रवों में बहाव होता है और इनका आकार बदलता है, इसीलिए ये दृढ़ नहीं लेकिन तरल होते हैं।

क्रियाकलाप 1.4 और 1.5 के संदर्भ में हमने देखा कि ठोस और द्रव का विसरण द्रवों में संभव है। वातावरण की गैसों विसरित होकर जल में घुल जाती हैं। ये गैसों, विशेषतः ऑक्सीजन एवं कार्बन डाइऑक्साइड जलीय जंतुओं तथा पौधों के लिए अनिवार्य होती हैं।

सभी जीवधारी अपने जीवन निर्वाह के लिए श्वास लेते हैं। जलीय जंतु जल में घुली ऑक्सीजन के कारण श्वास लेते हैं। इस तरह से हम इस निष्कर्ष पर पहुँचते हैं कि द्रव में ठोस, द्रव और गैस तीनों का विसरण संभव है। ठोसों की अपेक्षा द्रवों में विसरण की दर अधिक होती है। ऐसा इसलिए है क्योंकि द्रव अवस्था में पदार्थ के कण स्वतंत्र रूप से गति करते हैं और ठोस की अपेक्षा द्रव के कणों में रिक्त स्थान भी अधिक होता है।

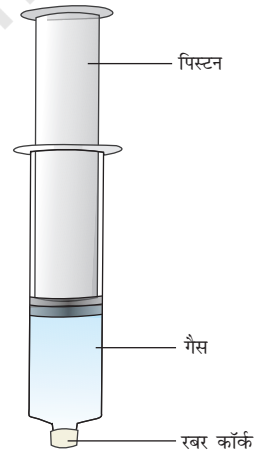
हमारे आस-पास के पदार्थ

1.3.3 गैसीय अवस्था

आपने कभी उस गुब्बारेवाले पर ध्यान दिया है, जो गैस के एक ही सिलिंडर से बहुत सारे गुब्बारों में हवा भरता है? उससे पता लगाएँ कि एक सिलिंडर से वह कितने गुब्बारे भरता है? उससे पूछिए कि सिलिंडर में कौन-सी गैस है?

क्रियाकलाप 1.11

- 100 mL की तीन सिरिंज लें और उनके सिरे को रबर के कॉर्क से बंद कर दें, जैसा चित्र 1.4 में दिखाया गया है।
- सभी सिरिंजों के पिस्टन को हटा लें।
- पहली सिरिंज में हवा रहने दें, दूसरी में जल और तीसरी में चॉक के टुकड़े भर दें।
- पिस्टन को वापस सिरिंज में लगाएँ। सिरिंज के पिस्टन की गतिशीलता आसान करने के लिए उस पर थोड़ी वैसलीन लगा दें।
- अब पिस्टन को सिरिंज में डालकर संपीडित करने की कोशिश करें।



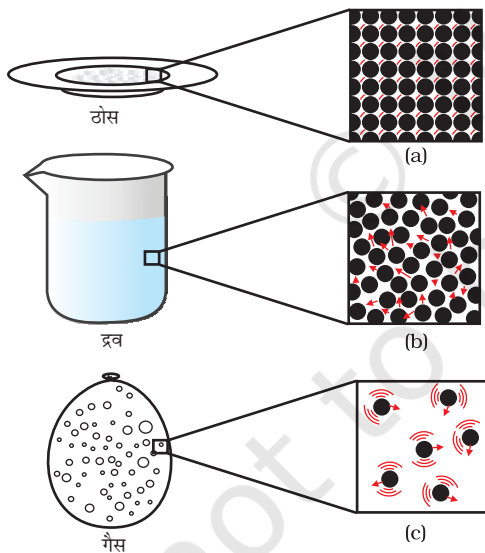
चित्र 1.4

- आपने क्या देखा? किस स्थिति में पिस्टन आसानी से अंदर चला गया?
- अपने प्रेक्षण से आपने क्या अनुमान लगाया?

हमने देखा कि ठोसों एवं द्रवों की तुलना में गैसों की संपीड्यता (compression) काफी अधिक होती है। हमारे घरों में खाना बनाने में उपयोग की जाने

वाली द्रवीकृत पेट्रोलियम गैस (LPG) या अस्पतालों में दिए जाने वाले ऑक्सीजन सिलिंडर में संपीडित गैस होती है। आजकल वाहनों में ईंधन के रूप में संपीडित प्राकृतिक गैस (CNG) का उपयोग होता है। संपीड्यता काफ़ी अधिक होने के कारण गैस के अत्यधिक आयतन को एक कम आयतन वाले सिलिंडर में संपीडित किया जा सकता है एवं आसानी से एक स्थान से दूसरे स्थान तक भेजा जा सकता है।

हमारी नाक तक पहुँचने वाली गंध से बिना रसोई में प्रवेश किए ही हम जान सकते हैं कि क्या पकाया जा रहा है? ये गंध हम तक कैसे पहुँचती है? खाने की गंध के कण वायु में मिल जाते हैं और रसोई से फैलकर हम तक पहुँच जाते हैं। यह गंध के कण और दूर भी जा सकते हैं। पके हुए गर्म खाने की महक हमारे पास तक कुछ ही क्षणों में पहुँच जाती है, इसकी तुलना ठोस एवं द्रवों के विसरण से करें। कणों की तेज़ गति और अत्यधिक रिक्त स्थानों के कारण गैसों का अन्य गैसों में विसरण बहुत तीव्रता से होता है।



चित्र 1.5: a, b तथा c पदार्थ की तीनों अवस्थाओं के कणों का योजनाबद्ध आवर्धित चित्रण है। तीनों अवस्थाओं में कणों की गति को देखा जा सकता है और उनकी तुलना की जा सकती है।

गैसीय अवस्था में कणों की गति अनियमित और अत्यधिक तीव्र होती है। इस अनियमित गति के कारण ये कण आपस में एवं बर्तन की दीवारों से टकराते हैं। बर्तन की दीवार पर गैस कणों द्वारा प्रति इकाई क्षेत्र पर लगे बल के कारण गैस का दबाव बनता है।

प्रश्न

1. किसी तत्व के द्रव्यमान प्रति इकाई आयतन को घनत्व कहते हैं।

(घनत्व = द्रव्यमान/आयतन)

बढ़ते हुए घनत्व के क्रम में निम्नलिखित को व्यवस्थित करें- वायु, चिमनी का धुआँ, शहद, जल, चॉक, रुई और लोहा।

2. (a) पदार्थ की विभिन्न अवस्थाओं के गुणों में होने वाले अंतर को सारणीबद्ध कीजिए।

(b) निम्नलिखित पर टिप्पणी कीजिए - दृढ़ता, संपीड्यता, तरलता, बर्तन में गैस का भरना, आकार, गतिज ऊर्जा एवं घनत्व।

3. कारण बताएँ -

(a) गैस पूरी तरह उस बर्तन को भर देती है, जिसमें इसे रखते हैं।

(b) गैस बर्तन की दीवारों पर दबाव डालती है।

(c) लकड़ी की मेज़ ठोस कहलाती है।

(d) हवा में हम आसानी से अपना हाथ चला सकते हैं, लेकिन एक ठोस लकड़ी के टुकड़े में हाथ चलाने के लिए हमें कराटे में दक्ष होना पड़ेगा।

4. सामान्यतया ठोस पदार्थों की अपेक्षा द्रवों का घनत्व कम होता है। लेकिन आपने बर्फ के टुकड़े को जल में तैरते हुए देखा होगा। पता लगाइए, ऐसा क्यों होता है?

1.4 क्या पदार्थ अपनी अवस्था को बदल सकता है?

अपने प्रेक्षण से हम जानते हैं कि जल पदार्थ की तीनों अवस्थाओं में रह सकता है:

- ठोस, जैसे बर्फ,
- द्रव, जैसे जल, एवं
- गैस, जैसे जलवाष्प।

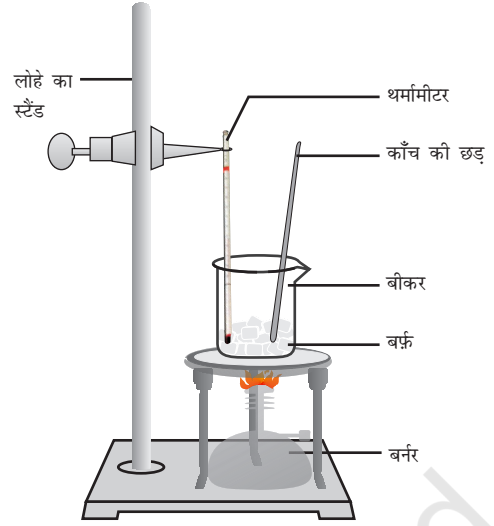
अवस्था बदलने के दौरान पदार्थ के अंदर क्या होता है? अवस्था के परिवर्तन से पदार्थ के कणों पर क्या प्रभाव पड़ता है? क्या हमें इन प्रश्नों का उत्तर नहीं खोजना चाहिए?

1.4.1 तापमान परिवर्तन का प्रभाव

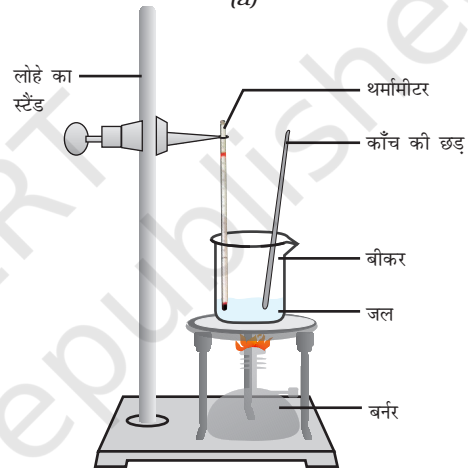
क्रियाकलाप 1.12

- एक बीकर में 150 ग्राम बर्फ का टुकड़ा लें एवं चित्र 1.6 के अनुसार उसमें प्रयोगशाला में प्रयुक्त थर्मामीटर को इस प्रकार लटका दें कि थर्मामीटर का बल्ब बर्फ को छू रहा हो।
- धीमी आँच पर बीकर को गर्म करना शुरू करें।
- जब बर्फ पिघलने लगे, तो तापमान नोट कर लें।
- जब संपूर्ण बर्फ जल में परिवर्तित हो जाए, तो पुनः तापमान नोट करें।
- ठोस से द्रव अवस्था में होने वाले परिवर्तन में प्रेक्षण को नोट करें।
- अब बीकर में एक काँच की छड़ डालें और हिलाते हुए गर्म करें, जब तक जल उबलने न लगे।
- थर्मामीटर की माप पर बराबर नज़र रखें, जब तक कि अधिकतर जलवाष्प न बन जाए।
- जल के द्रव अवस्था से गैसीय अवस्था में परिवर्तन में प्रेक्षण को नोट करें।

ठोस के तापमान को बढ़ाने पर उसके कणों की गतिज ऊर्जा बढ़ जाती है। गतिज ऊर्जा में वृद्धि होने के कारण कण अधिक तेज़ी से कंपन करने लगते हैं। ऊष्मा के द्वारा प्रदत्त की गई ऊर्जा कणों के बीच के आकर्षण बल को पार कर लेती है। इस कारण कण अपने नियत स्थान को छोड़कर अधिक स्वतंत्र होकर गति करने लगते हैं। एक अवस्था ऐसी आती है, जब ठोस पिघलकर द्रव में परिवर्तित हो जाता है। जिस



(a)



(b)

चित्र 1.6: (a) बर्फ का जल बदलने की प्रक्रिया, (b) जल से जलवाष्प में बदलने की प्रक्रिया

न्यूनतम तापमान पर ठोस पिघलकर द्रव बन जाता है, वह इसका **गलनांक** कहलाता है।

किसी ठोस का गलनांक उसके कणों के बीच के आकर्षण बल के सामर्थ्य को दर्शाता है।

बर्फ का गलनांक 273.15 K^* है। गलने की प्रक्रिया यानी ठोस से द्रव अवस्था में परिवर्तन को संगलन

*नोट : तापमान की अंतर्राष्ट्रीय (SI) मात्रक केल्विन (K) है, $0\text{ }^\circ\text{C} = 273.15\text{ K}$ होता है। सुविधा के लिए हम दशमलव का पूर्णांक बनाकर $0\text{ }^\circ\text{C} = 273\text{ K}$ ही मानते हैं। तापमान की माप केल्विन से सेल्सियस में बदलने के लिए दिए हुए तापमान से 273 घटाना चाहिए और सेल्सियस से केल्विन में बदलने के लिए दिए हुए तापमान में 273 जोड़ देना चाहिए।

भी कहते हैं। **किसी ठोस के गलने की प्रक्रिया में तापमान समान रहता है, ऐसे में ऊष्मीय ऊर्जा कहाँ जाती है?**

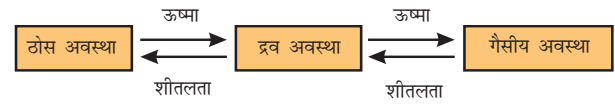
गलने के प्रयोग की प्रक्रिया के दौरान आपने ध्यान दिया होगा कि गलनांक पर पहुँचने के बाद, जब तक संपूर्ण बर्फ पिघल नहीं जाती, तापमान नहीं बदलता है। बीकर को ऊष्मा प्रदान करने के बावजूद भी ऐसा ही होता है। कणों के पारस्परिक आकर्षण बल को वशीभूत करके पदार्थ की अवस्था को बदलने में इस ऊष्मा का उपयोग होता है। चूँकि तापमान में बिना किसी तरह की वृद्धि दर्शाए इस ऊष्मीय ऊर्जा को बर्फ अवशोषित कर लेती है, यह माना जाता है कि यह बीकर में ली गई सामग्री में छुपी रहती है, जिसे गुप्त ऊष्मा कहते हैं। यहाँ गुप्त का अभिप्राय छुपी हुई से है। वायुमंडलीय दाब पर 1 kg ठोस को उसके गलनांक पर द्रव में बदलने के लिए जितनी ऊष्मीय ऊर्जा की आवश्यकता होती है, उसे संगलन की प्रसुप्त ऊष्मा कहते हैं, अर्थात् 0 °C (273 K) पर जल के कणों की ऊर्जा उसी तापमान पर बर्फ के कणों की ऊर्जा से अधिक होती है।

जब हम जल में ऊष्मीय ऊर्जा देते हैं, तो कण अधिक तेजी से गति करते हैं। एक निश्चित तापमान पर पहुँचकर कणों में इतनी ऊर्जा आ जाती है कि वे परस्पर आकर्षण बल को तोड़कर स्वतंत्र हो जाते हैं। इस तापमान पर द्रव गैस में बदलना शुरू हो जाता है। वायुमंडलीय दाब पर वह तापमान जिस पर द्रव उबलने लगता है, उसे इसका क्वथनांक कहते हैं। क्वथनांक समष्टि गुण है। द्रव के सभी कणों को इतनी ऊर्जा मिल जाती है कि वे वाष्प में बदल जाते हैं।

जल के लिए यह तापमान 373 K (100 °C = 273 + 100 = 373 K)

क्या आप वाष्पीकरण की गुप्त ऊष्मा को परिभाषित कर सकते हैं? इसे उसी तरह परिभाषित कीजिए, जैसे हमने संगलन की प्रसुप्त ऊष्मा को परिभाषित किया है। 373 K (100 °C) तापमान पर भाप अर्थात् वाष्प

के कणों में उसी तापमान पर पानी के कणों की अपेक्षा अधिक ऊर्जा होती है। ऐसा इसलिए है, क्योंकि भाप के कणों ने वाष्पीकरण की गुप्त ऊष्मा के रूप में अतिरिक्त ऊष्मा अवशोषित कर ली है।

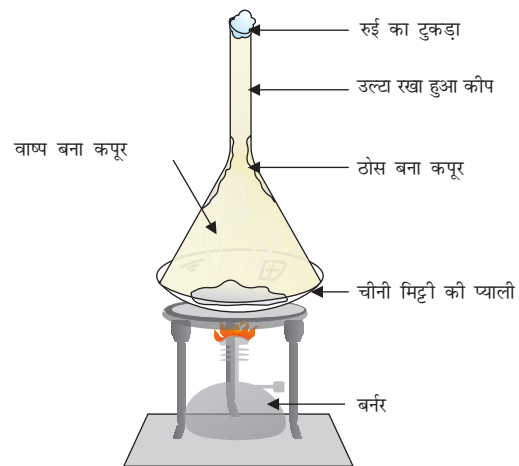


अतः हम यह कह सकते हैं कि तापमान बदलकर हम पदार्थ को एक अवस्था से दूसरी अवस्था में बदल सकते हैं।

हमने सीखा कि गर्म करने पर पदार्थ की अवस्था बदल जाती है। गर्म होने पर ये ठोस से द्रव और द्रव से गैस बन जाते हैं। लेकिन कुछ ऐसे पदार्थ हैं, जो द्रव अवस्था में परिवर्तित हुए बिना, ठोस अवस्था से सीधे गैस में और वापस ठोस में बदल जाते हैं।

क्रियाकलाप 1.13

- थोड़ा सा कपूर लें और इसे चूर्ण करके चीनी की प्याली (China dish) में डाल दें।
- एक कीप को उल्टा करके इस प्याली के ऊपर रख दें।
- इस कीप के एक सिरे पर रुई का एक टुकड़ा रख दें, जैसा चित्र 1.7 में दर्शाया गया है।
- अब धीरे-धीरे गर्म करें और ध्यान से देखें।



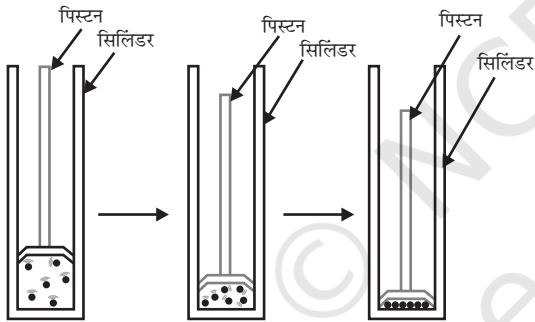
चित्र 1.7: कपूर का ऊर्ध्वपातन

- उपरोक्त क्रियाकलाप से आप क्या निष्कर्ष निकाल सकते हैं?

द्रव अवस्था में परिवर्तित हुए बिना ठोस अवस्था से सीधे गैस में बदलने की प्रक्रिया को ऊर्ध्वपातन कहते हैं और गैस से सीधे ठोस बनने की प्रक्रिया को निक्षेपण कहते हैं।

1.4.2 दाब-परिवर्तन का प्रभाव

हम जानते हैं कि घटक कणों के बीच की दूरी में अंतर होने के कारण पदार्थों की विभिन्न अवस्थाओं में अंतर होता है। किसी सिलिंडर में भरी गैस पर दाब लगाने एवं संपीड़न करने पर क्या होगा? क्या इसके कणों के बीच की दूरी कम हो जाएगी? क्या आपको लगता है कि दाब बढ़ाने या घटाने से पदार्थ की अवस्था में परिवर्तन हो सकता है?



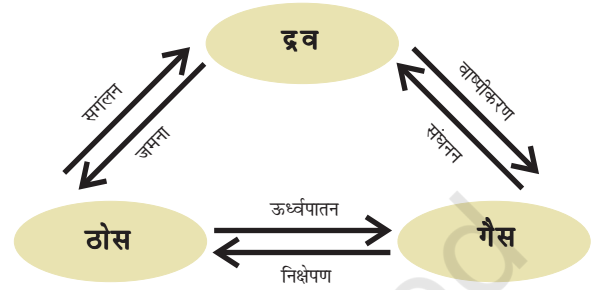
चित्र 1.8: दाब बढ़ाने पर पदार्थ के कणों को समीप लाया जा सकता है।

दाब के बढ़ने और तापमान घटने से गैस द्रव में बदल सकती है।

क्या आपने ठोस CO_2 के बारे में सुना है? इसे उच्च दाब पर संग्रहित किया जाता है। जब वायुमंडलीय दाब का माप 1 एटमॉस्फीयर (atm)* हो, तो ठोस CO_2 द्रव अवस्था में आए बिना सीधे गैस में परिवर्तित

हो जाती है। यही कारण है कि ठोस कार्बन डाइऑक्साइड को शुष्क बर्फ (dry ice) कहते हैं।

इस तरह से हम कह सकते हैं कि पदार्थ की अवस्थाएँ, यानी ठोस, द्रव और गैस, दाब और तापमान के द्वारा तय होती हैं।



चित्र 1.9: तीनों अवस्थाओं में पदार्थ का अंतरारूपांतरण

प्रश्न

1. निम्नलिखित तापमान को सेल्सियस में बदलें।
a. 300 K b. 573 K.
2. निम्नलिखित तापमान पर जल की भौतिक अवस्था क्या होगी?
a. 250 °C b. 100 °C ?
3. किसी भी पदार्थ की अवस्था परिवर्तन के दौरान तापमान स्थिर क्यों रहता है?
4. वायुमंडलीय गैसों को द्रव में परिवर्तन करने के लिए कोई विधि सुझाइए।

1.5 वाष्पीकरण

पदार्थ की अवस्था बदलने के लिए क्या सदैव ऊष्मा देना या दाब बदलना आवश्यक है? क्या अपने दैनिक जीवन से आप ऐसा कोई उदाहरण दे सकते हैं जिसमें बिना क्वथनांक पर पहुँचे हुए क्या कोई द्रव वाष्प अवस्था में बदल जाता है। जल को खुला छोड़ देने पर यह धीरे-धीरे वाष्प में परिवर्तित हो जाता है।

* एटमॉस्फीयर (atm) गैसीय दाब के मापन का मात्रक है। दाब का SI मात्रक पास्कल (Pa) है। 1 atm = 1.01×10^5 Pa। वायुमंडल में वायु का दाब वायुमंडलीय दाब कहलाता है। समुद्र की सतह पर वायुमंडलीय दाब एक एटमॉस्फीयर होता है और इसे सामान्य दाब कहा जाता है।

गीले कपड़े सूख जाते हैं। इन दोनों उदाहरणों में जल का क्या हुआ?

हम जानते हैं कि पदार्थ के कण हमेशा गतिशील होते हैं और कभी रुकते नहीं। एक निश्चित तापमान पर गैस, द्रव या ठोस के कणों में विभिन्न मात्रा में गतिज ऊर्जा होती है। द्रवों में सतह पर स्थित कणों के कुछ अंशों में इतनी गतिज ऊर्जा होती है कि वे दूसरे कणों के आकर्षण बल से मुक्त हो जाते हैं। क्वथनांक से कम तापमान पर द्रव के वाष्प में परिवर्तित होने की इस प्रक्रिया को वाष्पीकरण कहते हैं।

1.5.1 वाष्पीकरण को प्रभावित करने वाले कारक

एक क्रियाकलाप के माध्यम से इसे समझते हैं।

क्रियाकलाप _____ 1.14

- एक परखनली में 5 mL जल लें और इसे खिड़की के पास या पंखे के नीचे रख दें।
- खुली रखी चीनी मिट्टी की प्याली में 5 mL जल रखकर उसे खिड़की के पास या पंखे के नीचे रख दें।
- खुली चीनी मिट्टी की प्याली में 5 mL जल रखकर उसे अपनी कक्षा की किसी अलमारी के अंदर रख दें।
- कमरे का तापमान नोट करें।
- इन सभी परिस्थितियों में वाष्पीकरण में लगे समय या दिन को भी नोट करें।
- बारिश के दिन भी इन क्रियाकलापों को करके अपने प्रेक्षण लिखें।
- वाष्पीकरण के निम्नलिखित तथ्यों के बारे में आप क्या अनुमान लगा सकते हैं? तापमान का प्रभाव, सतह का क्षेत्र और वायु की चाल।

आपने ध्यान दिया होगा कि वाष्पीकरण की दर निम्नलिखित के साथ बढ़ती है:

- सतह क्षेत्र बढ़ने पर: अब हम जानते हैं कि वाष्पीकरण एक सतही प्रक्रिया है। सतही क्षेत्र बढ़ने पर वाष्पीकरण की दर भी बढ़ जाती है। जैसे, कपड़े सुखाने के लिए हम उन्हें फैला देते हैं।

- तापमान में वृद्धि: तापमान बढ़ने पर अधिक कणों को पर्याप्त गतिज ऊर्जा मिलती है, जिससे वे वाष्पीकृत हो जाते हैं।
- आर्द्रता में कमी: वायु में विद्यमान जलवाष्प की मात्रा को आर्द्रता कहते हैं। किसी निश्चित तापमान पर हमारे आस-पास की वायु में एक निश्चित मात्रा में ही जल वाष्प होता है। जब वायु में जल कणों की मात्रा पहले से ही अधिक होगी, तो वाष्पीकरण की दर घट जाएगी।
- वायु की गति में वृद्धि: हम जानते हैं कि तेज वायु में कपड़े जल्दी सूख जाते हैं। वायु के तेज होने से जलवाष्प के कण वायु के साथ उड़ जाते हैं जिससे आस-पास के जल-वाष्प की मात्रा घट जाती है।

1.5.2 वाष्पीकरण के कारण शीतलता कैसे होती है?

खुले हुए बर्तन में रखे द्रव में निरंतर वाष्पीकरण होता रहता है। वाष्पीकरण के दौरान कम हुई ऊर्जा को पुनः प्राप्त करने के लिए द्रव के कण अपने आस-पास से ऊर्जा अवशोषित कर लेते हैं। इस तरह आस-पास से ऊर्जा के अवशोषित होने के कारण शीतलता हो जाती है।

जब आप एसीटोन (या नाखूनों की पॉलिश हटाने वाले द्रव) को अपनी हथेली पर गिराते हैं तो क्या होता है? इसके कण आपकी हथेली या उसके आस-पास से ऊर्जा प्राप्त कर लेते हैं और वाष्पीकृत हो जाते हैं जिससे हथेली पर शीतलता महसूस होती है।

तेज धूप वाले गर्म दिन के बाद लोग अपनी छत या खुले स्थान पर जल छिड़कते हैं। क्योंकि जल के वाष्पीकरण की गुप्त ऊष्मा गर्म सतह को शीतल बनाती है। क्या आप वाष्पीकरण के कारण शीतल होने के और उदाहरण दे सकते हैं?

गर्मियों में हमें सूती कपड़े क्यों पहनने चाहिए?

शारीरिक प्रक्रिया के कारण गर्मियों में हमें ज्यादा पसीना आता है, जिससे हमें शीतलता मिलती है। जैसे

कि हम जानते हैं, वाष्पीकरण के दौरान द्रव की सतह के कण हमारे शरीर या आसपास से ऊर्जा प्राप्त करके वाष्प में बदल जाते हैं। वाष्पीकरण की प्रसुप्त ऊष्मा के बराबर ऊष्मीय ऊर्जा हमारे शरीर से अवशोषित हो जाती है, जिससे शरीर शीतल हो जाता है। चूँकि सूती कपड़ों में जल का अवशोषण अधिक होता है, इसलिए हमारा पसीना इसमें अवशोषित होकर वायुमंडल में आसानी से वाष्पीकृत हो जाता है।

बर्फीले जल से भरे गिलास की बाहरी सतह पर जल की बूँदें क्यों नज़र आती हैं?

किसी बर्तन में हम बर्फीला जल रखते हैं। जल्दी ही बर्तन की बाहरी सतह पर हमें जल की बूँदें नज़र आने लगेंगी। वायु में उपस्थित जलवाष्प की ऊर्जा ठंडे

पानी के संपर्क में आकर कम हो जाती है और यह द्रव अवस्था में बदल जाता है, जो हमें जल की बूँदों के रूप में नज़र आता है।

प्रश्न

1. गर्म, शुष्क दिन में कूलर अधिक ठंडा क्यों करता है?
2. गर्मियों में घड़े का जल ठंडा क्यों होता है?
3. एसीटोन/पेट्रोल या इत्र डालने पर हमारी हथेली ठंडी क्यों हो जाती है?
4. कप की अपेक्षा प्लेट से हम गर्म दूध या चाय जल्दी क्यों पी लेते हैं?
5. गर्मियों में हमें किस तरह के कपड़े पहनने चाहिए?



आपने क्या सीखा

- द्रव्य सूक्ष्म कणों से मिलकर बना होता है।
- हमारे आस-पास द्रव्य तीन अवस्थाओं में विद्यमान होता है: ठोस, द्रव और गैस।
- ठोस के कणों में आकर्षण बल सबसे अधिक, गैस के कणों में सबसे कम और द्रव के कणों में इन दोनों के मध्यवर्तीय होते हैं।
- ठोस के कणों में ठोसों को निहित करने वाले कणों के बीच का रिक्त स्थान और गतिज ऊर्जा न्यूनतम, गैसों के लिए यह अधिकतम किंतु द्रवों के लिए मध्यवर्तीय है।
- ठोसों के लिए उनके कणों की व्यवस्था अत्यधिक क्रमित होती है। द्रवों में कणों की परतें एक-दूसरे पर से फिसल व खलित हो सकती हैं, गैसों में कोई क्रम नहीं होता और इनके कण अनियमित रूप से विचरण करते हैं।
- पदार्थ की अवस्थाएँ अंतःपरिवर्तित होती हैं। पदार्थ की अवस्थाओं में परिवर्तन ताप और दाब में परिवर्तन से किया जा सकता है।
- ऊर्ध्वपातन प्रक्रम में ठोस पदार्थ द्रव में परिवर्तित हुए बिना ही सीधे गैसीय अवस्था में आ जाता है।

- निक्षेपण प्रक्रम में गैसीय पदार्थ सीधे ठोस अवस्था में आ जाता है।
- क्वथनांक की समष्टि परिघटना जिसमें समष्टि के कण द्रव अवस्था से वाष्प में परिवर्तित होते हैं।
- वाष्पीकरण एक सतह की परिघटना है। सतह के कण पर्याप्त ऊर्जा ग्रहण कर उनके बीच के परस्पर आकर्षण बलों को पार कर लेते हैं और द्रव को वाष्प अवस्था में परिवर्तित कर देते हैं।
- वाष्पीकरण की गति निम्नलिखित कारकों पर निर्भर करती है: सतही क्षेत्रफल जिसका वायुमंडल के प्रति परित्याग होता है, तापमान, आर्द्रता और वायु की गति।
- वाष्पीकरण से ठंडक उत्पन्न होती है।
- वाष्पीकरण की गुप्त ऊष्मा ताप की वह मात्रा है जो 1 kg द्रव को वायुमंडलीय दाब और द्रव के क्वथनांक पर गैसीय अवस्था में परिवर्तन करने हेतु प्रयोग होती है।
- संगलन की गुप्त ऊष्मा ऊर्जा की वह मात्रा है जो 1 kg ठोस को वायुमंडलीय दाब पर ठोस को उसके संगलन बिंदु पर लाने के लिए प्रयोग होती है।
- कुछ मापने योग्य राशियाँ और उनके मात्रक जिनका हमें ज्ञान होना चाहिए।

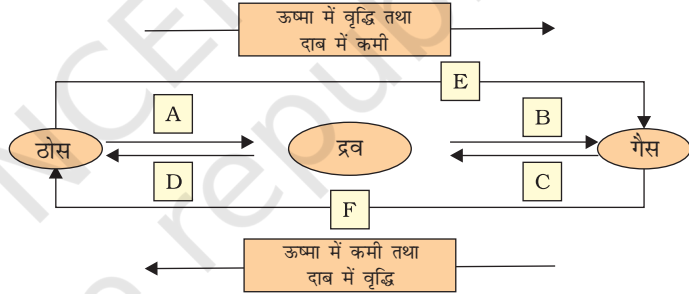
राशि	मात्रक	प्रतीक
तापमान	केल्विन	K
लंबाई	मीटर	m
संहति	किलोग्राम	kg
भार	न्यूटन	N
आयतन	घन मीटर	m ³
घनत्व	किलोग्राम प्रति घनमीटर	kg m ⁻³
दाब	पास्कल	Pa

अभ्यास



1. निम्नलिखित तापमानों को सेल्सियस इकाई में परिवर्तित करें:
 - (a) 300 K
 - (b) 573 K.
2. निम्नलिखित तापमानों को केल्विन इकाई में परिवर्तित करें:
 - (a) 25 C
 - (b) 373 C.
3. निम्नलिखित अवलोकनों हेतु कारण लिखें:
 - (a) नैप्रथलीन को रखा रहने देने पर यह समय के साथ कुछ भी ठोस पदार्थ छोड़े बिना अदृश्य हो जाती है।

- (b) हमें इत्र की गंध बहुत दूर बैठे हुए भी पहुँच जाती है।
4. निम्नलिखित पदार्थों को उनके कणों के बीच बढ़ते हुए आकर्षण के अनुसार व्यवस्थित करें:
- (a) जल (b) चीनी (c) ऑक्सीजन
5. निम्नलिखित तापमानों पर जल की भौतिक अवस्था क्या है:
- (a) 25 C (b) 0 C (c) 100 C ?
6. पुष्टि हेतु कारण दें:
- (a) जल कमरे के ताप पर द्रव है।
(b) लोहे की अलमारी कमरे के ताप पर ठोस है।
7. 273 K पर बर्फ को ठंडा करने पर तथा जल को इसी तापमान पर ठंडा करने पर शीतलता का प्रभाव अधिक क्यों होता है?
8. उबलते हुए जल अथवा भाप में से जलने की तीव्रता किसमें अधिक महसूस होती है?
9. निम्नलिखित चित्र के लिए A, B, C, D, E तथा F की अवस्था परिवर्तन को नामांकित करें:



समूह हेतु क्रियाकलाप



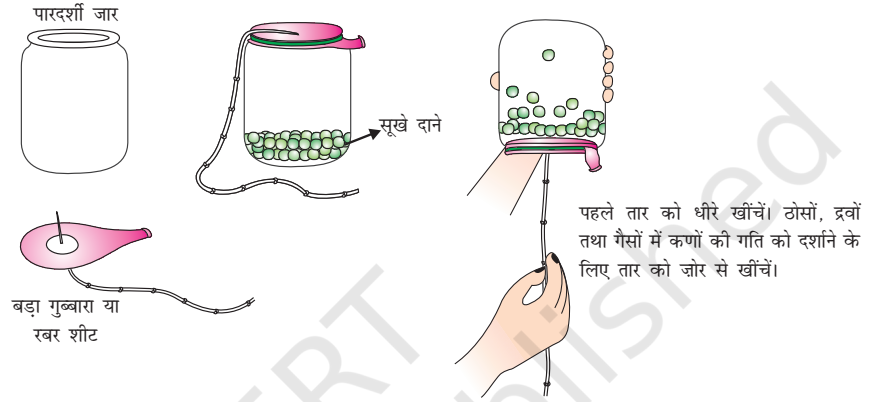
ठोसों, द्रवों और गैसों में कणों की गतिशीलता दर्शाने के लिए एक प्रतिदर्श का निर्माण करें।

इसका निर्माण करने हेतु आपको इनकी आवश्यकता पड़ेगी

- एक पारदर्शी जार
- एक बड़ा रबर का गुब्बारा अथवा खींची गई रबर की एक शीट
- एक तार
- कुछ कुक्कुट को डाले जाने वाले दाने अथवा काले चने अथवा शुष्क हरे दाने।

प्रतिदर्श का निर्माण कैसे किया जाए?

- दानों को ज़ार में डालें
- तार को रबर शीट के मध्य में पिरो दें और इसे सुरक्षा की दृष्टि से टेप के माध्यम से कस कर बाँधें।
- अब रबर शीट को खींचें और इसे ज़ार के मुख पर बाँध दें।
- आपका प्रतिदर्श तैयार है। अब आप उँगली के माध्यम से तार को ऊपर नीचे धीरे से या तेज़ी से सरका सकते हैं।



चित्र 1.10: ठोस से द्रव और द्रव से गैस में परिवर्तन के लिए एक प्रतिदर्श